

Zadatak:

Font svih tekstova i brojeva: Calibri, veličine 12

Širina 1. stupca tablice: 12

Širina 2. stupca tablice: 7

Kopiraj radni listi daj mu ime Test

U tom radnom listu umetni grafove prema uputama

Ispiši uradak u pdf u mapu 7. r. Namjesti sve grafove da stanu na jednu stranicu. U podnožju na lijevoj strani neka piše današnji datum, a na desnoj strani tvoje ime i prezime.

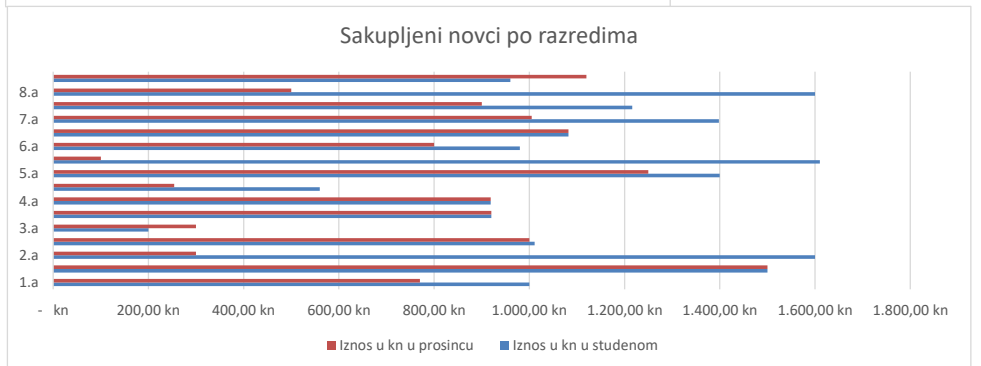
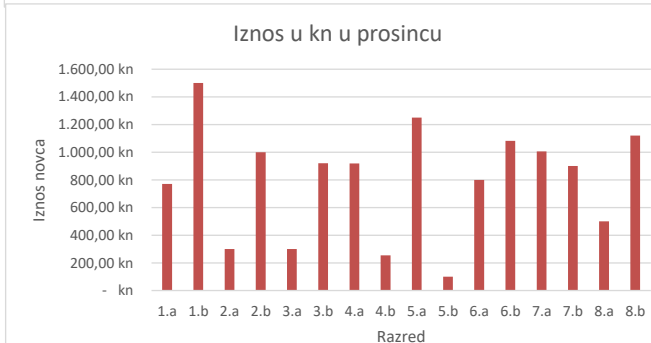
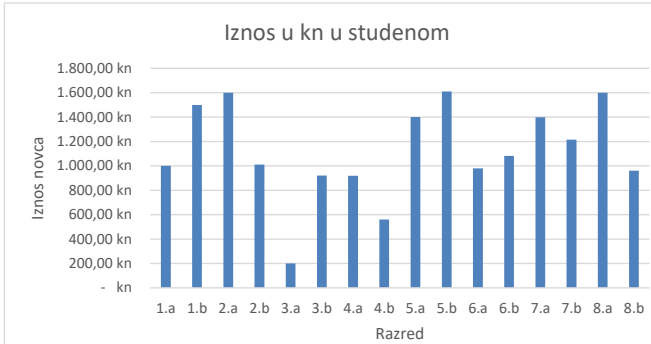
Blagajnik	Razred	Iznos u kn u studenom	Iznos u kn u prosincu
Marko P.	1.a	1.000,00 kn	770,00 kn
Ana M.	1.b	1.500,00 kn	1.500,00 kn
Ivana B.	2.a	1.600,00 kn	300,00 kn
Karlo J.	2.b	1.011,00 kn	1.000,00 kn
Emina G.	3.a	200,00 kn	300,00 kn
Anita E.	3.b	920,00 kn	920,00 kn
Kornelija T.	4.a	919,00 kn	919,00 kn
Edita R.	4.b	560,00 kn	254,00 kn
Jadranka H.	5.a	1.400,00 kn	1.250,00 kn
Hrvoje H.	5.b	1.610,00 kn	100,00 kn
Eva K.	6.a	980,00 kn	800,00 kn
Zvonimir Z.	6.b	1.082,00 kn	1.082,00 kn
Zlatko G.	7.a	1.398,00 kn	1.005,00 kn
Ante T.	7.b	1.216,00 kn	900,00 kn
Maja E.	8.a	1.600,00 kn	500,00 kn
Karolina K.	8.b	960,00 kn	1.120,00 kn
		<b>17.956,00 kn</b>	<b>12.720,00 kn</b>

Svi učenici jedne osnovne škole sudjelovali su akciji prodaje krofnica koje su sami (ili uz pomoć roditelja) ispekli. U tablici su prikazani iznosi koje su blagajnici razreda prikupili za trajanja akcije. **Izračunaj Excelom u ćeliji C18 i D18 ukupne iznose koje su prikupili učenici u određenom mjesecu. Formatiraj sve iznose u KN.**

1. Nacrtaj grafički prikaz iz kojeg se vidi koliko je koji razred skupio novaca u studenom. Plavi graf

2. Nacrtaj grafički prikaz iz kojeg se vidi koliko je koji razred skupio novaca u prosincu. Crveni graf

3. Nacrtaj usporedni trakasti graf iz kojeg se vidi usporedba sakupljanja novaca pojedinog razreda u studenom i prosincu. Unutar pojedinog stupca neka piše iznos.



4. Izradi tortni dijagram iz kojeg se vidi koliki je udio novca skupljen u studenom, a koliki u prosincu (postotci).

