

## 14.4.2021. Stigli smo do sredine radnog tjedna. Danas imamo malo više zadataka .Krenimo redom!

HRVATSKI JEZIK- Stvaralačko pisanje – Medvjed Kruškić

Na poveznici spoji riječi u rečenici, na kartici ZABAVNI KUTAK.

<https://www.e-sfera.hr/dodatni-digitalni-sadrzaji/88de9eb7-18dc-4859-a780-bb94a906e33a/>

Danas ćeš pisati priču o medvjediću Kruškiću.

Olujom ideja istakni što više riječi vezane uz život medvjeda u pojedinim godišnjim dobima. Piši čitko!

Plan:

1. Jesen
2. Zima
3. Proljeće
4. Ljeto

MATEMATIKA- Tablica množenja

Riješi ZNAM na 88.str.

**TABLICA MNOŽENJA**

**ZNAM**

Ovo je redak!  
 $2 \cdot 5 =$

Ovo je stupac!

	1	2	3	4	5	6	7	8	9	10
1	1	2	3	4	5	6	7	8	9	10
2	2	4	6	8	10	12	14	16	18	20
3	3	6	9	12	15	18	21	24	27	30
4	4	8	12	16	20	24	28	32	36	40
5	5	10	15	20	25	30	35	40	45	50
6	6	12	18	24	30	36	42	48	54	60
7	7	14	21	28	35	42	49	56	63	70
8	8	16	24	32	40	48	56	64	72	80
9	9	18	27	36	45	54	63	72	81	90
10	10	20	30	40	50	60	70	80	90	100

2. redak i 5. stupac se preklapaju na broju

$2 \cdot 5 =$

U tablicu množenja upisuju se faktori i njihovi umnošci.

Izračunaj umnožak označenih faktora.

	1	2
1	1	2
2	2	4

Prebroj koliko ima bijelih kvadratica u svakoj tablici.  
Točno ih je , a toliko je i umnožak faktora.

**1.** U tablicu množenja upisani su umnošci. Napiši odgovarajuća jednakosti množenja.

	1	2	3	4	5	6	7	8	9	10
1				5		7			18	
2	4									
3										
4										
5		15	20						50	
6										
7					35					
8	16									
9										
10	10									100

$5 = 1 \cdot 5$

**2.** Primijeni znanje o množenju brojeva i izračunaj. Umnoške upiši u tablicu množenja. Rezultat provjeri brojenjem kvadrata.

	1	2	3	4	5	6	7	8	9	10
1										
2										
3										
4						24				
5										
6										
7										
8										
9										
10										

$4 \cdot 6 = 24$   
 $7 \cdot 7 =$    
 $9 \cdot 3 =$    
 $6 \cdot 7 =$    
 $8 \cdot 4 =$    
 $8 \cdot 8 =$    
 $7 \cdot 4 =$    
 $9 \cdot 6 =$    
 $3 \cdot 9 =$    
 $3 \cdot 8 =$

Promatranjem ilustracije i slušanjem uoči dvoje djece koji u tablici pokazuju stupac i redak.

U tablici množenja upisuju se faktori i njihovi umnošci.

U prvom stupcu i prvom retku upisani su faktori.

Prouči u e-učionici.

<https://www.e-sfera.hr/dodatni-digitalni-sadrzaji/f726ff3f-43b3-4a79-8c0b-0691168c8026/>

Ponovi!

Što se upisuje u tablicu množenja?

Na kojem broju se preklapaju 2. redak i 5. stupac.

Koliko je 3 puta 7?

Pročitaj faktore za umnožak 56.

Prepiši:

## TABLICA MNOŽENJA

$2 \cdot 5 = 10$

STUPAC

REDAK

·	1	2	3	4	5	6	7	8	9	10
1	1	2	3	4	5	6	7	8	9	10
2	2	4	6	8	10	12	14	16	18	20
3	3	6			15					30
4	4	8			20					40
5	5	10	15	20	25	30	35	40	45	50
6	6	12			30					60
7	7	14			35					70
8	8	16			40					80
9	9	18			45					90
10	10	20	30	40	50	60	70	80	90	100

2. redak i 5. stupac se preklapaju na broju 10.

$$2 \cdot 5 = 10$$

U TABLICU MNOŽENJA upisuju se faktori i njihovi umnošci.



Upiši brojeve koji nedostaju!

·	1	2	3	4	5	6	7	8	9	10
1	1	2	3	4	5	6	7	8	9	10
2	2	4	6	8	10	12	14	16	18	20
3	3	6			15					30
4	4	8			20					40
5	5	10	15	20	25	30	35	40	45	50
6	6	12			30					60
7	7	14			35					70
8	8	16			40					80
9	9	18			45					90
10	10	20	30	40	50	60	70	80	90	100

Zadaj si zadatke pa upiši u tablicu.

**TABLICA MNOŽENJA**

.	1	2	3	4	5	6	7	8	9	10
1										
2										
3										
4										
5										
6										
7										
8										
9										
10										

**PRIRODA I DRUŠTVO- PROLJEĆE - VREMENSKE PRILIKE, BILJKE I ŽIVOTINJE**

Prisjeti se što si uočio/uočila ili fotografirala pri promatranju prirode- koje promjene u životu biljaka i životinja? Pratio/pratila si i vremenske prilike tijekom 7 dana. Usporedi sa zapažanjima tijekom izvanučioničke nastave.

Riješi uvodni zadatak.

**PROMJENE U PRIRODI U PROLJEĆE**

### Proljeće - vremenske prilike, biljke i životinje

Riješi premetaljkü i napiši naziv godišnjeg doba.

Č L J E O E R P

Napiši četiri riječi koje te podjećaju na to godišnje doba.

Proljeće započinje 21. ožujka, a završava 21. lipnja.

Upiši na vremensku crtu nadnevke kada proljeće počinje, a kada završava.

VELJACA
OŽUJAK
TRAVANJ
SVIBANJ
LIPANJ
SRPANJ

zima

proljeće

ljetö

SUNČANO VRIJEME

MLADA TRAVA

VOĆKE U CVATU

PROMJENE U PRIRODI U PROLJEĆE

U proljeće Sunce jaće grije i otapa snijeg. Sve je toplije. Padaju tople prolećne kiše. Priroda se budi iz zimskog poćinka. U rano proljeće mnogo je hladnih dana. U kasno proljeće vrijeme je često sunčano i toplo. Topljenje snijega i česte kiše mogu prouzročiti prolećne poplave. Dani u proljeće postaju sve duži, a noći sve kraće.

Ispod znakova za vremenske prilike koje prevladavaju u proljeće upiši njihove nazive.

ODGOVORI

1. Kakvo je vrijeme u tvom mjestu u proljeće?
2. Usporedi dužinu dana i noći tijekom zime i u proljeće.




ISTRAŽI

1. Napiši popis aktivnosti kojima se možeš baviti kad je dan u proljeće sunčan.

Čitaj sadržaje na 28.- 32. str. Rješavaj zadano.

Prepiši!

**PROLJEĆE – VREMENSKE PRILIKE, BILJKE I ŽIVOTINJE**

<p>Vremenske prilike u proljeće</p> 	<p>Biljke u proljeće</p> 
<p>Životinje u proljeće</p> 	

Ponovi na karticama na poveznici.

<https://www.e-sfera.hr/dodatni-digitalni-sadrzaji/54c58b7f-c52e-40db-9129-5426e7ca6a26/>

Riješi zadano u radnoj bilježnici na 30. i 31. str.

### **LIKOVNA KULTURA**- OBRISNE CRTE, KONTRAST VELIKO MALO (NATPIS ZA SOBU)

Pripreмимо potreban materijal, likovnu tehniku flomastere, dijelimo markere.

Flomasterom crtamo na glatkom papiru, crtamo crte.

Ukoliko želimo dobiti obojanu plohu niže crte jednu do druge, no samo manje površine. Za veće površine koristimo mrežu linija (strukture). Možemo iscrtavati i crte po toku i karakteru, karakter crte ovisi o debljini flomastera i o crtaču. Razlikujemo debljinu flomastera (markera).

**Ponovimo! TOK CRTE - OTVORENE/ZATVORENE, PRAVILNE/NEPRAVILNE, VODORAVNA/OKOMITA/KOSA**


**KARAKTER CRTE - KRATKA/DUGA, DEBELA/TANKA, JEDNOLIČNA/NEJEDNOLIČNA, BRZA/SPORA, OŠTRA/TUPA, GUSTA/RIJETKA, NEOBOJANA/OBOJANA, VESELA/TUŽNA...**

## KONTRAST = SUPROTNOST

### OBRISNA CRTA

OBRISNE CRTE = OPISUJU NEKI  
OBLIK IZVANJA, PO NJEGOVOJ  
RUBU

KONTRAST = SUPROTNOST,  
RAZLIČITOST.... VELIKO –MALO



Pablo Picasso: Konj, crtež

**Obrisnim crtama možemo naglasiti nešto bitno**, obrubiti važan znak, primjerice u prostoru označiti mjesto zabrane prolaska ili granicu prijestupa (graničar, teniski meč i sl.). Putem od kuće do škole nailazite na prometne znakove, obrubljene obrisnom crtom radi lakšeg uočavanja, koji vam kazuju kako se kretati u prostoru. Obrisnom crtom označeno je i mjesto stajanja na autobusnoj ili tramvajskoj stanici, kako bi putnici bili zaštićeni prilikom zaustavljanja prijevoznog sredstva.

Također u vašim domovima postoje znakovi upozorenja koje treba znati pročitati. Iako maleni naspram velikih prometnih imaju jednaku važnost i značenje. **Poput malih i velikih slova, velika slova koristimo za naglašavanje poruka, početna slova imena i početak riječi u rečenici, malim slovima pišemo tekstove.**



Roy Lichtenstein *Whaam!*, 1963. Čiji autor koristi obrisnu liniju za naglašavanje pojmova. Od sasvim malog teksta ili likovnog znaka (točka, mrlja, lik) nastaje oblak ili prasak.



Pravilna i nepravilna izmjena varijacija nekog predmeta, oblika, boje ili zvuka zove se ritam.

Danas ćeš koristiti flomaster.

***Današnji motiv jest natpis za vlastitu sobu čija slova obrubljujemo, a poruku naglašavamo. Koristimo još tri flomastera u drugim bojama i iscrtavamo nove rubove nekoliko puta.***

***Možemo promijeniti oblik ruba, ali obrisna crta mora biti prisutna.***

***Bojom možemo obojati dijelove rubova, naglasiti poruku.***

***Važnije crte također možemo podebljati markerom.***

***Od male poruke pokušajmo dobiti veliki, uočljiv, značajan znak.***

## **TJELESNA I ZDRAVSTVENA KULTURA – STOJ PENJANJEM UZ OKOMITU PLOHU NASKOK NA POVIŠENJE DO 40 CM, RAZLIČITI SASKOCI**

### **1.OPĆE PRIPREMNE VJEŽBE**

#### VJEŽBE ZA VRAT, RUKE I RAMENI POJAS



**Rotacija glavom** u lijevu i desnu stranu  
(10 ponavljanja - 5 puta sa svake strane)

## **2.STOJ PENJANJEM UZ OKOMITU PLOHU**

**POVEZNICA:** <https://youtu.be/YgR9M1LAqSQ>

## **3.NASKOK NA POVIŠENJE DO 40 CM, RAZLIČITI SASKOCI**

**POVEZNICA:** <https://youtu.be/TueAE3X-Mbo>