

PETAK, 17.4.2020.

Dobro jutro!

Evo nas na kraju još jednog radnog tjedna. Nadam se da vam nije bilo teško i da ste se uz učenje malo i zabavili. Danas po rasporedu imamo HJ, MAT, TZK I LK.

Riješite danas sve zadatke, pa se odmarajte i uživajte u igri preko vikenda.

Hrvatski jezik

Zagonetke

Pčelica 1 početnica 2.dio.

Danas ćemo učiti što su to zagonetke. Tvoj zadatak je otkriti što se krije u ovim zagonetkama i zapisati i nacrtati u pisanku.

Duge uši, kratak rep,
krzno mi je meko,
volim mrkvu i salatu,
a zovem se...

Svi što me vole
svi me tuku
udaraju nogom
i bacaju iz ruku.
Ja sam....

Kao najlakša ptica letim,
a težak sam kao slon,
pijem samo benzin
i zovem se...

Zamoli baku ili djeda da ti ispriča nekoliko zagonetki kojih se sjećaju kada su oni išli u školu.

U svoju pisanku zapiši:

Zagonetka

Zagonetka je kratka i duhovita

priča koja nas navodi na

pogađanje.

-Pokušajte i vi smisliti zagonetke za ove životinje. Jednu zagonetku napiši velikim tiskanim slovima u pisanku A. Možeš i nacrtati odgonetku.



Matematika

Veza zbrajanja i oduzimanja- usvajanje novog znanja

Matematička mreža1 udžbenik str.88. i 89.

Prisjeti se onoga što smo već naučili: POGLEDAJ e-učionicu.

<https://www.e-sfera.hr/dodatni-digitalni-sadrzaji/01473679-1dcc-4660-8fac-8222e9c20a5b/>

-Naučili smo što je veza zbrajanja i oduzimanja te kako je primjenjujemo u brojevima do 5.

-Danas ćemo naučiti primjenjivati vezu zbrajanja i oduzimanja u brojevima do 10.Otvorite vaše Matematičke mreže1 udžbenike na str.88.Pogledajte sliku.

-Smisli računsku priču prema ilustraciji. Ispričaj je roditeljima.



-Pročitaj računске priče Ante, Ele i Žarka. Izračunaj i napiši u udžbeniku.

U posudi je voće, banane i jabuke.
Jabuka je 6, a banana 4.
Koliko je voćaka u posudi?

$$6 + 4 = \square$$

U posudi je voćaka.



U posudi je 10 voćaka, banana i jabuka.
Koliko je jabuka ako su 4 banane?

$$10 - 4 = \square$$

U posudi je jabuka.




U posudi je 10 voćaka, banana i jabuka.
Koliko je banana ako je 6 jabuka?

$$10 - 6 = \square$$

U posudi su banane.




PROMOTRI




$$6 + 4 = 10$$



$$10 - 6 = 4$$



$$4 + 6 = 10$$




$$10 - 4 = 6$$

PRISJETI SE

Prisjeti se zašto si rabio/rabila vezu zbrajanja i oduzimanja za brojeve do 5.
Znaš napamet sva zbrajanja do 10, sada ti neće biti teško naučiti i sva oduzimanja brojeva do 10.

+	0	1	2	3	4	5	6	7	8	9	10
0	0	1	2	3	4	5	6	7	8	9	10
1	1	2	3	4	5	6	7	8	9	10	
2	2	3	4	5	6	7	8	9	10		
3	3	4	5	6	7	8	9	10			
4	4	5	6	7	8	9	10				
5	5	6	7	8	9	10					
6	6	7	8	9	10						
7	7	8	9	10							
8	8	9	10								
9	9	10									
10	10										

$$\begin{aligned} 2 + 5 &= 7 \\ 7 - 2 &= 5 \\ 7 - 5 &= 2 \end{aligned}$$



Otvorite vaše matematičke pisanke, stavite naslov crvenom bojicom i prepišite:

VEZA ZBRAJANJA I ODUZIMANJA BROJEVA DO 10

$$\begin{aligned} 6 + 4 &= 10 & \text{JER JE} & 10 - 4 &= 6 \\ 4 + 6 &= 10 & \text{JER JE} & 10 - 6 &= 4 \end{aligned}$$

DR: Samostalno riješi zadatke u udžbeniku na str.89.(1.2.3.i 4. zadatak)

Tjelesna i zdravstvena kultura

Vježbajte uz poznate sportaše u "Školi na trećem"

<https://www.youtube.com/watch?v=kvLozBas93M&feature=youtu.be>

Likovna kultura

Sova-crni flomaster(crte po toku i karakteru)

Pripremi papir i crni flomaster.

Prisjeti se kakve crte mogu biti (debele, tanke, duge, kratke, otvorene, zatvorene, ravne , zakrivljene, izlomljene...).

Promotri sovu.



Pokušaj je opisati. Kakvog oblika joj je tijelo? Kakva joj je glava (oblik i veličina u odnosu na tijelo)? Promotri glavu sove. Što ima na njoj? Kakvog su oblika oči? Kakav je kljun?

Krila su joj sklopljena. Što se nazire ispod tijela? Čime je prekrivena sova? Promotri perje. Kakvim biste ga crtama nacrtali?

Zadatak: NACRTAJ CRNIM FLOMASTEROM SOVU. U CRTANJU UPOTRIJEBI RAZLIČITE VRSTE CRTA. PLOHE NEMOJ BOJATI, NEGO IH ISPUNJAVAJ CRTAMA.

Želim vam puno uspjeha u radu.