

Dobro jutro moji dragi učenici!

Jučer ste bili izvanredni! Riješili ste listiće iz matematike skoro bez greške. Vaši cvjetovi od kolaž papira izgledaju kao pravi iz prirode. Nadam se da ćete i danas biti jednako uspješni. Danas po rasporedu imamo: HJ,GK,MAT,VJ i NJ. Krenimo na posao!

HJ:

Veliko i malo formalno slovo Lj lj -ponavljanje i vježba

Pčelica1 početnica 2.dio; str.59. Pčelica1 radna bilježnica 2.dio str.59.

-Pročitaj rečenice na 59. stranici i zaokruži mjesto u kojem živi Ljubica.

Pročitaj još jednom napisane rečenice.

Promotri kako su napisana imena naseljenih mjesta.



ČITAM REČENICE.

Volim Ljubicu.

Ona je moja prijateljica.

Stanuje u Zagrebu.

Ja živim u Kraljevici.

U nedjelju će doći kod mene.

Mi volimo proljetno cvijeće.

Ljuljamo se na ljuljačkama.

Što zaključuješ? Kako pišemo imena naseljenih mjesta?

Velikim početnim slovom
pišemo imena naseljenih
mjesta.

Otvorite vaše pisanke ,ponovimo još malo kako se piše veliko i malo slovo Lj lj ,pa napišimo što smo naučili.

Lj

Lj

lj

Zagreb, Kraljevica, Rovinj, Novska,

Trilj

Imena naseljenih mjesta pišemo


velikom početnim slovom.

-Odmorite se malo, dignite ruke u zrak i pokažite kako vjetar ljulja grane. Spustimo ruke ponovo na stol. Podigni lijevu ruku u zrak i nacrtaj krug po zraku. Sada podigni desnu ruku u zrak pa i s njom nacrtaj krug po zraku. Spusti ruke i nastavi s radom.

-Promotri preostale zadatke u udžbeniku i riješi ih:

 IMENUJEM SLIKE. PIŠEM RIJEČI.



 PREMA SLICI ODGOVARAM NA PITANJE VELIKIM TISKANIM SLOVIMA.

Što rade Željko i Olja?



Poigraj se i provjeri znanje: https://www.e-sfera.hr/dodatni-digitalni-sadrzaji/cac4f1d5-4c1b-4575-94f9-ca72dada8f63/assets/interactivity/lj_1/index.html

Riješi križaljku: https://www.e-sfera.hr/dodatni-digitalni-sadrzaji/cac4f1d5-4c1b-4575-94f9-ca72dada8f63/assets/interactivity/22_slagalice_rijeci_-_lj_2/index.html

DR: Riješi zadatke u radnoj bilježnici na str.59.(5.6. i 7. zadatak)

GLAZBENA KULTURA

-Poslušaj pjesmu Zvončić u proljeće. Pokušaj je naučiti pjevati tako što ćeš je slušati i pjevati tijekom dana.

-Otvori 34. i 35. stranicu udžbenika Razigrani zvuci te nekoliko puta pročitaj tekst pjesme ZVONČIĆ U PROLJEĆE.

Poslušaj pjesmu: <https://www.e-sfera.hr/dodatni-digitalni-sadrzaji/3a9122f6-30fc-4fb0-a553-4b9f88ea17e4/>

-Pokušaj ju uz glazbu otpjevati.

-Poslušaj ulomak iz skladbe Proljeće koju je skladao Antonio Vivaldi.

Tu skladbu izvodi GUDAČKI SASTAV.

-Pogledaj što je gudački sastav te promotri instrumente: https://www.e-sfera.hr/dodatni-digitalni-sadrzaji/3a9122f6-30fc-4fb0-a553-4b9f88ea17e4/assets/video/gudacki_sastav.mp4

-Pročitaj priču JUTARNJE BUĐENJE te uz svaku sliku osmisli pokret ili zvuk.

MAT:

ZBRAJANJE BROJEVA DO 10 – usvajanje novog znanja

Matematička mreža1; udžbenik str.82. i 83.

NAUČILI SMO ZBRAJATI I ODUZIMATI BROJEVE DO 5.

DANAS ĆEMO UČITI ZBRAJATI BROJEVE DO 10.

Otvorite udžbenike na 82. stranici.

PROMOTRIMO ZADATAK.




NA CVIJETU JE 5 LEPTIRA. DOLETJELA SU
JOŠ 3 LEPTIRA.

KOLIKO JE LEPTIRA SADA NA CVIJETU?

RAČUNAJ: $5 + 3 = \square$

ODGOVORI: NA CVIJETU SU ____ LEPTIRA.

Zbrojimo.



$$5 + 3 = 8$$

Promotrimo slijedeći zadatak:

NA POVRATKU IZ TRGOVINE ELA IMA 7 KUNA.
U TRGOVINI JE POTROŠILA DVIJE KUNE.
KOLIKO JE KUNA IMALA ELA PRIJE ODLASKA U TRGOVINU?



RAČUNAJ: $7 + 2 = \square$

ODGOVORI: PRIJE ODLASKA U TRGOVINU ELA JE IMALA ____ KUNA.

RIJEŠI ZADATAK S POMOĆU SLIKE. Zbroji sve kovanice.



+



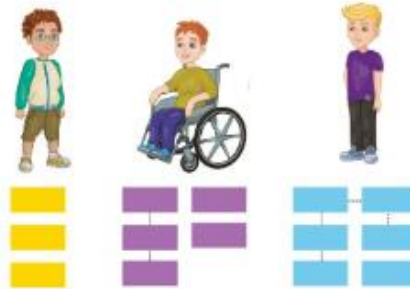
Sljedeći zadatak izgleda ovako:

MARKO, ŽARKO I ANTE SKUPLJAJU POŠTANSKE MARKE.

MARKO IMA 3 MARKE.

ŽARKO IMA 2 MARKE VIŠE OD MARKA,
A ANTE 1 MARKU VIŠE OD ŽARKA.

KOLIKO POŠTANSKIH MARAKA IMA
ŽARKO, A KOLIKO ANTE?



RAČUNAJ: $3 + 2 = \square$ $5 + 1 = \square$

ODGOVORI: ŽARKO IMA ____ MARAKA, A ANTE ____ MARAKA.

BROJEVI KOJE ZBRAJAMO ZOVU SE PRIBROJNICI, A REZULTAT ZBRAJANJA ZBROJ.

Promotri pravokutnike ispod likova.


Marko ima 3 poštanske marke (3 žuta pravokutnika).

Žarko ima 2 poštanske marke više od Marka. Ako Marko ima 3, onda Žarko ima $3 + 2$. (5 ljubičastih pravokutnika)

Ante ima jednu poštansku marku više od Žarka. Ante ima $3 + 2 + 1$. (6 plavih pravokutnika).


Riješi zadatak u svom udžbeniku.

Ponovimo.

$$3 + 3 = 6$$


1. PRIBROJNIK 2. PRIBROJNIK ZBROJ

NE ZABORAVI! Zbrajati možemo i više pribrojnika.

$$2 + 3 + 4 = 9$$


PRIBROJNICI ZBROJ

DR: Pokušajte samostalno riješiti zadatke na str 83.(1.2.3.4. i 5. zadatak)